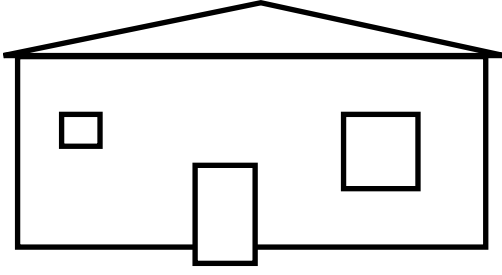


MATEMATİK



1) Yukarıdaki ev modelinde hangi geometrik şekil yoktur?

- A) üçgen B) kare C) çember

2) Bir kümeste 15 tavuk ve tavukların 3 katıda civciv vardır. Bu kümeste kaç tane hayvan vardır?

- A) 28 B) 75 C) 60

3) Serkan 19 yaşındadır. Abisi Serkan'dan 23 yaş büyüktür. Buna göre ikisinin yaşları toplamı kaçtır?

- A) 42 B) 61 C) 58



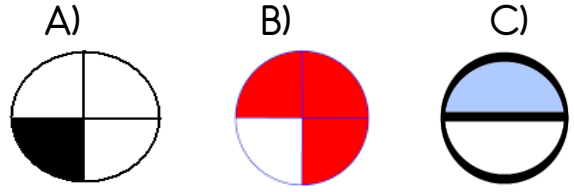
4) Yukarıda bütün yüzeyleri verilen geometrik cisim aşağıdakilerden hangisidir?

- A) Dikdörtgen prizma
B) Üçgen prizma
C) Küp

5) Aşağıdaki sözcüklerden hangisinin simetri doğrusu yoktur?

- A) TUT B) SÜT C) YAY

6) Aşağıdaki şekillerden hangisinin çeyreği boyanmıştır?




7) Yukarıdaki şeklin ne kadarı boyalıdır?

- A) $\frac{8}{3}$ B) $\frac{4}{10}$ C) $\frac{4}{6}$

8) Bir terzi 45 metre kumaşın 15 metresini satıyor. Kalan kumaşı ise 5 eşit parçaya ayırarak satıyor. Her bir parça kaç metredir?

- A) 7 metre B) 5 metre C) 6 metre

9) Aşağıdaki geometrik cisimlerden hangisinin yüzü dairedir?



10) Yarısı 14 olan sayının 3 katı kaçtır?

- A) 84 B) 80 C) 90

Not: Sınav süresi 70 dakikadır.